


## Quanti...?

- 1 - Osserva, leggi e rispondi.



- Quante figurine ha Andrea? .....
- Quante figurine ha Luisa? .....
- Quale operazione puoi fare per conoscere il numero delle figurine di Andrea? .....
- Quale operazione puoi fare per conoscere il numero delle figurine di Luisa? .....



- 2 - Osserva, leggi e rispondi.



- Quanti anni ha Andrea? .....
- Quale operazione puoi fare per calcolare i suoi anni? .....
- Quanti anni ha Luisa? .....
- Quale operazione puoi fare per calcolare i suoi anni? .....

## Quanti oggetti?

- 1 - Completa con i disegni.

| Disegna due oggetti in più     | Gli oggetti   | Disegna il doppio degli oggetti    |
|--------------------------------|---|------------------------------------|
|                                |    |                                    |
|                                |    |                                    |
|                                |    |                                    |
|                                | (nessun oggetto)  |                                    |
| Disegna tre oggetti in più     | Gli oggetti   | Disegna il triplo degli oggetti    |
|                                |  |                                    |
|                                |  |                                    |
|                                |  |                                    |
| Disegna quattro oggetti in più | Gli oggetti   | Disegna il quadruplo degli oggetti |
|                                |  |                                    |
|                                |  |                                    |
|                                | (nessun oggetto)  |                                    |

# Un po' di esercizio

- 1 - Completa le operazioni.

2 aggiungi 2 e scrivi l'operazione: .....

2 fa' il doppio e scrivi l'operazione: .....

2 aggiungi 3 e scrivi l'operazione: .....

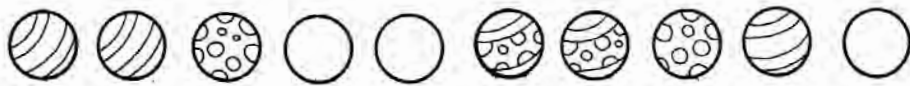
2 fa' il triplo e scrivi l'operazione: .....

2 aggiungi 4 e scrivi l'operazione: .....

2 fa' il quadruplo e scrivi l'operazione: .....

2 aggiungi 5 e scrivi l'operazione: .....

2 fa' il quintuplo e scrivi l'operazione: .....



3 aggiungi 2 e scrivi l'operazione: .....

3 fa' il doppio e scrivi l'operazione: .....

3 aggiungi 3 e scrivi l'operazione: .....

3 fa' il triplo e scrivi l'operazione: .....

3 aggiungi 4 e scrivi l'operazione: .....

3 fa' il quadruplo e scrivi l'operazione: .....

3 aggiungi 5 e scrivi l'operazione: .....

3 fa' il quintuplo e scrivi l'operazione: .....



4 aggiungi 2 e scrivi l'operazione: .....

4 fa' il doppio e scrivi l'operazione: .....

4 aggiungi 3 e scrivi l'operazione: .....

4 fa' il triplo e scrivi l'operazione: .....

4 aggiungi 4 e scrivi l'operazione: .....

4 fa' il quadruplo e scrivi l'operazione: .....

4 aggiungi 5 e scrivi l'operazione: .....

4 fa' il quintuplo e scrivi l'operazione: .....